

団体名 教室名				性別 男 女	名前			

ざ 座	せき 席	ばん 番	ごう 号				25 4 ×	とくてん てん 点
--------	---------	---------	---------	--	--	--	-----------	-----------------

かいとう かいせつ

※こたえは ぜんぶ かいとうらんに かきなさい。

1 つぎの けいさんを しなさい。

(1) $30 + 50 = \boxed{80}_{1}$

(2) $21 + 43 = \boxed{64}_{2}$

(3) $85 + 38 = \boxed{123}_{3}$

(4) $13 - 4 = \boxed{9}_{4}$

(5) $54 - 28 = \boxed{26}_{5}$

(6) $117 - 31 = \boxed{86}_{6}$

(7) $51 + 12 + 29 = \boxed{92}_{7}$

(8) $65 - 37 + 14 = \boxed{42}_{8}$

2 つぎの に あてはまる かずを かきなさい。

(1) $19 + 32 = 84 - \boxed{33}_{9}$

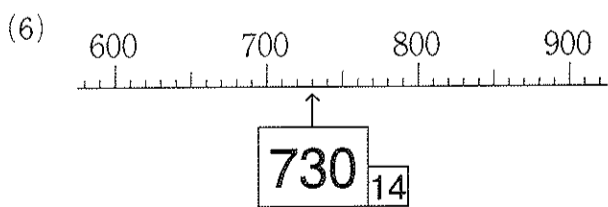
(2)

1	<input type="text"/>	3
—	3	<input type="text"/>
<hr/>		
	7	8 <input type="text"/>


(3) 四百三を すうじで かくと ₁₁ です。

(4) 680は 10を ₁₂ こ あわせた かずです。

(5) 1000より 3 小さい かずは ₁₃ です。



(7) 右の 時計は ₁₅ を さして います。



3 つぎの もんだいに こたえなさい。

(1) に あてはまる 長さの たんいを かきなさい。

① クレヨンの 長さ …… 6 ₁₆

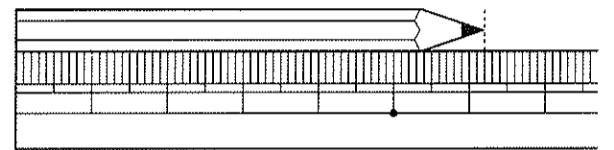
② 教科書の あつさ …… 5 ₁₇

(2) 2 cm 5 mm は なん mm ですか。

mm ₁₈

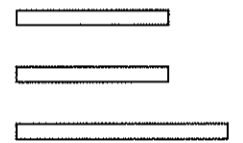
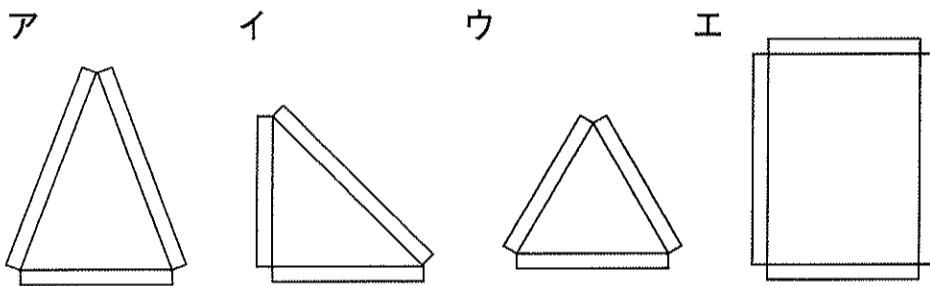
(3) 右の えの えんぴつの 長さは なんcm なんmm ですか。

cm mm ₁₉



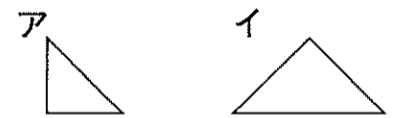
4 つぎの もんだいに こたえなさい。

(1) 右の えの ひごを すべて つかって できる かたちを, 下の ア, イ, ウ, エから えらんで きごうを かきなさい。



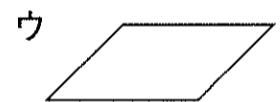
₂₀

(2) 右の えの ア, イのような かたちの いたが たくさん あります。これらをつかって, ウ, エのような かたちをつくりたいと 思います。



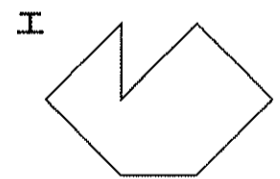
① ウの かたちを アの いただけで つくります。アの いたは なんまい つかいますか。

まい ₂₁



② エの かたちを イの いた2まいと アの いたを なんまいか つかって つくります。アの いたは なんまい つかいますか。

まい ₂₂



5 ガムと あめと クッキーが あります。ガム1この ねだんは 64円で, クッキー1まいの ねだんは 25円です。また, あめ1この ねだんは クッキー1まいの ねだんより 6円 やすいそうです。

(1) ガム1こと クッキー1まいを かうと, あわせて なん円ですか。

円 ₂₃

(2) クッキー1まいの ねだんは, ガム1この ねだんより なん円 やすいですか。

円 ₂₄

(3) ガム1こと あめ1こを かって 100円玉を 1まい 出しました。おつりは なん円ですか。

円 ₂₅